

ВВЕДЕНИЕ

Перед вами математический тренажёр «Учим цифры: первый счёт», который предназначен для ребёнка 4—5 лет.

Пособие поможет малышу:

- сформировать и закрепить визуальный образ цифры, навыки счёта в пределах 5, умение находить цифры по визуальному образу или словесной инструкции, знания о размере, геометрических фигурах, временах года;
- научиться ориентироваться в пространстве и на листе бумаги;
- развить память, внимание, мышление, воображение, глазомер и мелкую моторику;
- повысить любознательность и мотивацию.

Яркие иллюстрации, весёлые стихотворения, интересные задания сделают процесс обучения лёгким и увлекательным.

Задания в книге составлены с учётом возрастных особенностей детей и построены по принципу от простого к сложному с использованием наглядных, словесных и практических методов обучения.

Помните: каждый ребёнок индивидуален и у каждого свой темп развития. Для малыша в раннем возрасте вы являетесь главным наставником, и только от вас зависит, что и в каком объёме он будет знать. Не стремитесь получить быстрый результат. Помогите ребёнку понять этот мир и научиться взаимодействовать с ним.




Желаем успехов!



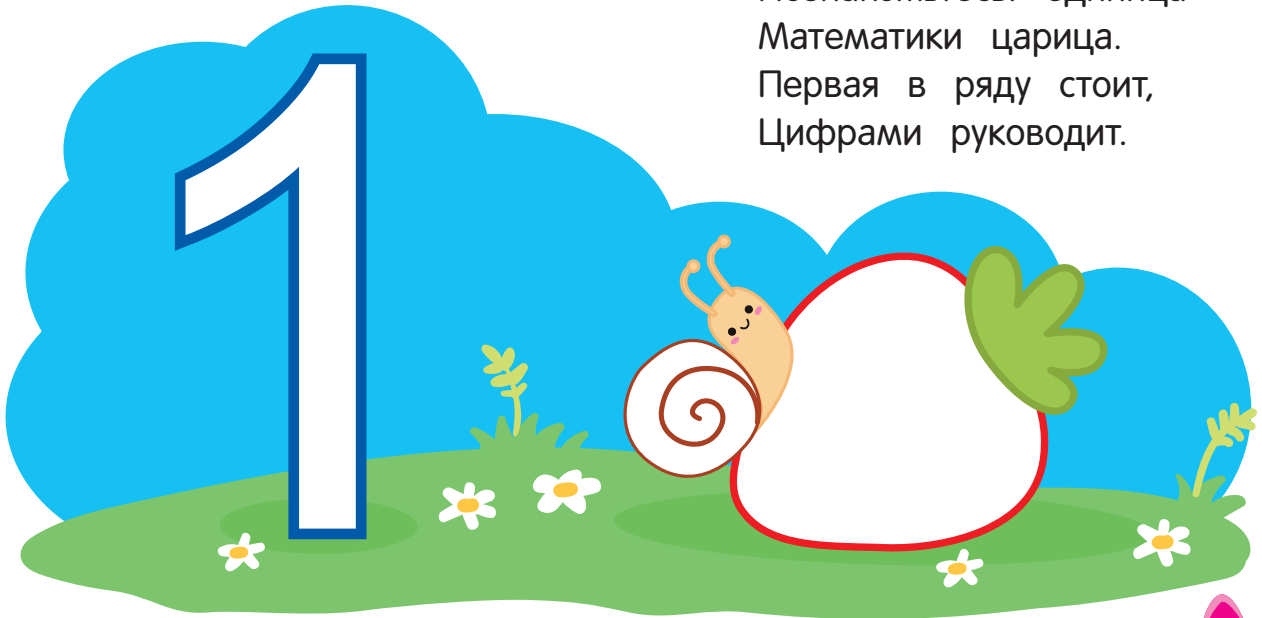
ЗАНЯТИЕ 1



1


Раскрась цифру 1 , клубнику — , домик улитки — . Выучи стихотворение.

Познакомьтесь: единица —
Математики царица.
Первая в ряду стоит,
Цифрами руководит.



2




Раскрась серединку цветка, на котором правильно написана цифра 1. Какой формы цветочные серединки?





3

Какие из картинок, которые ты видишь на рисунке, похожи на цифру 1?



4

Найди на рисунке одну цифру 1. Составь короткий рассказ по картинке.




5

ЗАНЯТИЕ 2




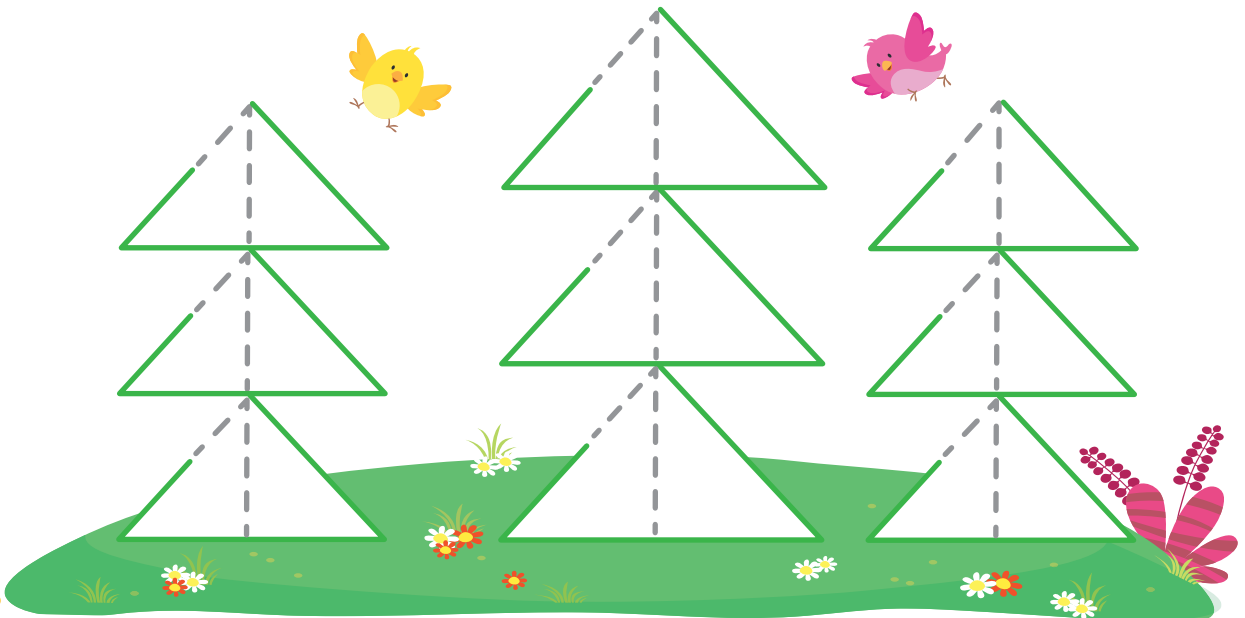
1

Помоги лягушке поймать стрекозу — прыгать можно по листкам с правильно написанной цифрой 1.



2

Обведи цифры 1 по пунктирным линиям и раскрась ели . Какое дерево самое высокое?





3

Сколько лисиц, зайцев ты видишь на рисунке? Кто из животных нарисован справа, а кто — слева?



4

Сосчитай медвежат, пчёл. Какое время года изображено на рисунке? Почему ты так решил?

