



## **ВВЕДЕНИЕ**

Пособие предназначено для дополнительной работы с младшими школьниками, которым необходимо уточнить и закрепить усвоение той или иной темы по математике. Задания построены таким образом, чтобы не повторять, а дополнять упражнения, имеющиеся в школьных учебниках. Благодаря этому пособие можно использовать в сочетании с любым из существующих учебников по математике.

При составлении пособия учитывались требования, предъявляемые Федеральным государственным образовательным стандартом к содержанию современного образования. Ученикам необходимо учиться размышлять, сопоставлять и сравнивать, соблюдать плановую последовательность в работе, постоянно обращаться к накопленным ранее знаниям и делать логические выводы.

Задания пособия способствуют более глубокому пониманию числового ряда от 0 до 19, закреплению умения выполнять действия сложения и вычитания и решать текстовые задачи на сложение и вычитание в одно и два действия; формированию навыков устного счёта.

Мы надеемся, что работа по данной книге будет способствовать гармоничному развитию учеников и повышению их успеваемости.

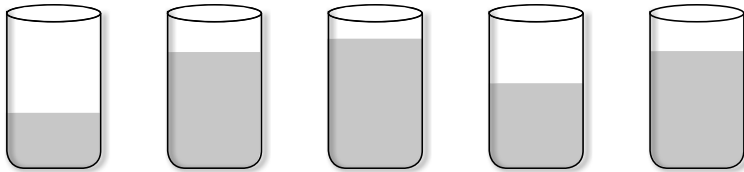
Пособие может быть полезно родителям, которые стремятся углубить знания и учебные умения детей, а также учителям начальных классов в качестве дополнительного дидактического материала для работы на уроках.



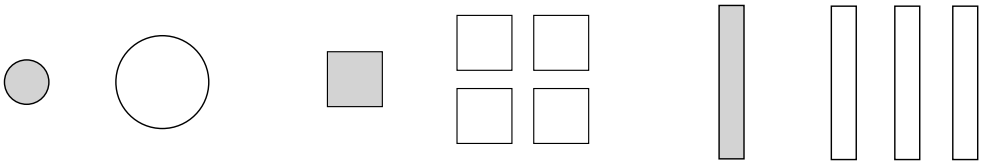


## КОЛИЧЕСТВО

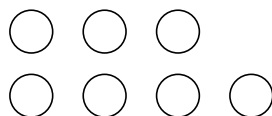
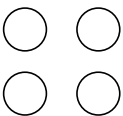
1. Найди и подчеркни стаканы с одинаковым количеством сока.



2. Подчеркни синим карандашом фигуры, которые отличаются размером, а красным — фигуры, которые отличаются количеством.




3. Дорисуй кружки таким образом, чтобы в верхних рядах кружков было больше.



## КОЛИЧЕСТВО

1. Соедини линией каждую мышку с кусочком сыра.

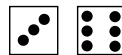
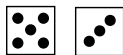
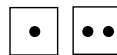



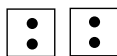
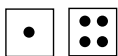


Отметь, всем ли мышкам хватило сыра.

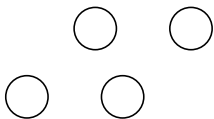

да

нет

2. Подчеркни пары квадратов, где количество точек слева больше.




3. Проведи линии так, чтобы в каждой группе количество кружков слева и справа от линии было одинаковым.





## ЧИСЛА И ЦИФРЫ

1. Обведи предметы, количество которых равно 1.



2. Выдели в строке цифру 1.

Е 2 9 М Х 1 М К У 1 3 П 2 1 Р


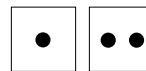
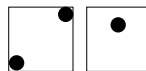
3. Обведи предметы, количество которых равно 2.



4. Выдели в строке цифру 2.

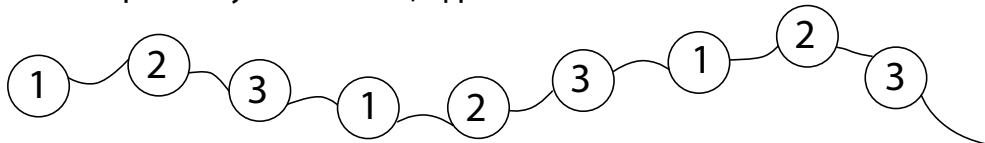
Д Н 1 3 6 К 2 Е Д 9 1 0 3 4 2 3 2

5. Под каждым квадратиком напиши количество точек в нём и сравни числа.

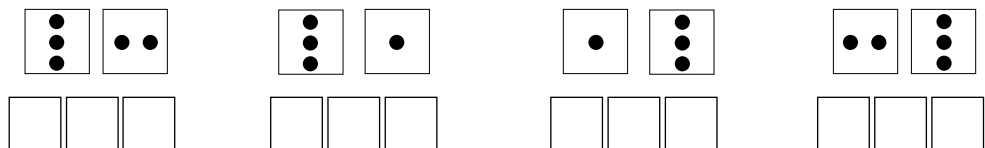


## ЧИСЛА И ЦИФРЫ

1. Раскрась бусинки с цифрой 3.



2. Под каждым квадратиком напиши количество точек в нём и сравни числа.



3. Найди и отметь цифру 4.

**1** 2 3 4 **1** 2 3 **4** 1 2 3 4

4. Подчеркни правильные записи.

1 > 2    3 = 2    4 = 4    3 > 1    2 < 4    4 < 3

5. Впиши нужные знаки между числами.

3  4      4  2      4  3      1  1  
 4  1      2  1      3  3      1  4

Подчеркни равенства.

