



# СОДЕРЖАНИЕ

<b>От авторов</b> .....	<b>4</b>
<b>Русский язык</b> .....	<b>5</b>
Вариант 1 .....	6
Вариант 2 .....	10
Вариант 3 .....	14
Вариант 4 .....	18
Вариант 5 .....	22
<b>Математика</b> .....	<b>26</b>
Вариант 1 .....	27
Вариант 2 .....	33
Вариант 3 .....	38
Вариант 4 .....	43
Вариант 5 .....	48
<b>Окружающий мир</b> .....	<b>53</b>
Вариант 1 .....	54
Вариант 2 .....	59
Вариант 3 .....	64
Вариант 4 .....	69
Вариант 5 .....	74
<b>Диктанты по русскому языку</b> .....	<b>79</b>
<b>Система оценивания и ответы</b> .....	<b>82</b>



**2** Выпиши из текста диктанта 5-е предложение.

Ответ. \_\_\_\_\_  
\_\_\_\_\_

Отметь галочкой (✓) слово, которое стоит в этом предложении во множественном числе.

## Часть 2

**3** Произнеси данные ниже слова, поставь в них знаки ударения над ударными гласными.

Алфавит, засуха, искра.

**4** В данном ниже предложении найди слово, в котором все согласные звуки звонкие. Выпиши это слово.

Бобры строят плотины.

Ответ. \_\_\_\_\_

**Прочитай текст и выполни задания 5–14. Запиши ответы на отведённых для этого строчках.**

### ЁЖИК

(1) Пошёл тёмной ночью серый ёжик по лесу гулять. (2) Увидел красную клюквинку и наколол её на серую иголочку. (3) Увидел жёлтую лисичку и тоже наколол.

(4) Заметил, наконец, в голубой луже голубую звезду. (5) Тоже хотел наколоть — да ничего не вышло. (6) Подумал ёжик, подумал и накрыл её лопушком: пусть до утра полежит.

(7) А утром под лопушком вместо голубой звезды нашёл красное солнышко. (8) Вот ёж смеялся.

(Г. Цыферов)

- 5** Определи, является данный текст рассказом или сказкой. Отметь верный вариант ответа.

А) рассказ

Б) сказка

**Запиши** слово или слова из текста, которые помогли сделать тебе выбор.

Ответ. \_\_\_\_\_

\_\_\_\_\_

- 6** Какую часть текста можно озаглавить «Загадочное превращение»?

**Отметь** верный вариант ответа.

А) 1-я часть

Б) 2-я часть

В) 3-я часть

- 7** **Задай** по тексту вопрос и **запиши** его.

Вопрос. \_\_\_\_\_

\_\_\_\_\_

\_\_\_\_\_

- 8** Что обозначает слово «лисичка» из 3-го предложения? **Запиши** ответ.

Ответ. Лисичка — это \_\_\_\_\_

\_\_\_\_\_

- 9** **Замени** слово «заметил» из 4-го предложения близким по значению словом. **Запиши** это слово.

Ответ. Заметил — \_\_\_\_\_

\_\_\_\_\_

**10** Выпиши из текста однокоренное (родственное) слово к слову «лопух». Выдели корень.

Ответ. \_\_\_\_\_

**11** Выпиши из 2-го предложения слова, которые обозначают предметы.

Ответ. \_\_\_\_\_

\_\_\_\_\_

**12** Выпиши из 7-го предложения слова, которые обозначают признаки предметов.

Ответ. \_\_\_\_\_

\_\_\_\_\_

**13** Выпиши из 3-го предложения слова, которые отвечают на вопрос *что сделал?*

Ответ. \_\_\_\_\_

\_\_\_\_\_

**14** Подумай и напиши, почему засмеялся ёжик.

Ответ. \_\_\_\_\_

\_\_\_\_\_

\_\_\_\_\_

\_\_\_\_\_

\_\_\_\_\_

\_\_\_\_\_

\_\_\_\_\_

\_\_\_\_\_

\_\_\_\_\_














# ВАРИАНТ 1

## Часть 1

- 1 Алёна собирается в школу. Она приготовила школьные принадлежности. Линейка изготовлена из дерева. На рисунке она отмечена стрелкой с надписью «дерево». Покажи на рисунке стрелкой любой предмет из бумаги. Подпиши название материала рядом со стрелкой.



- 2 Прочитай высказывание.

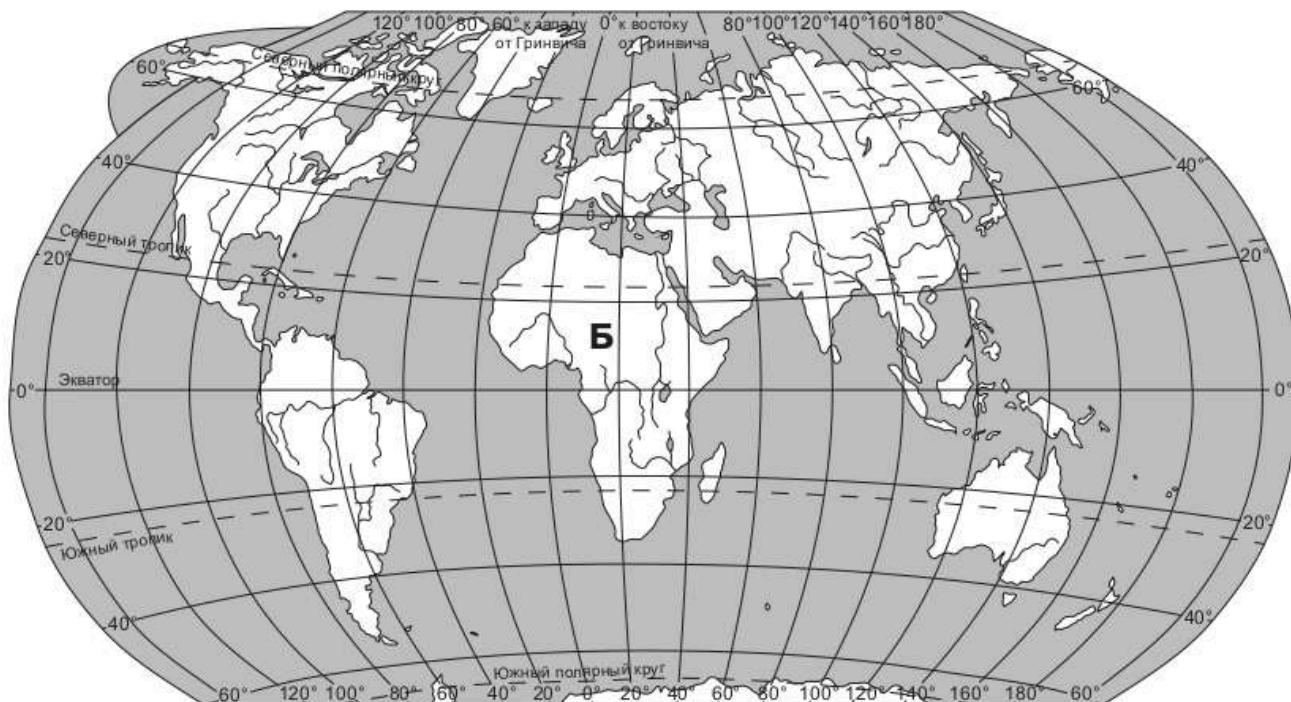
«15 мая в течение дня ожидаются грозовые дожди».

Укажи номер рисунка, который соответствует данному явлению.



Ответ: \_\_\_\_\_

**3** Рассмотри карту мира. На ней буквой Б обозначен материк.



**3.1** Отметь верное название материка галочкой (✓).

Евразия

Австралия

Африка

**3.2** Напиши название одного из океанов, который омывает этот материк.

Ответ: \_\_\_\_\_

**3.3** Какой водоём изображён на рисунке? Напиши ответ.



Ответ: \_\_\_\_\_

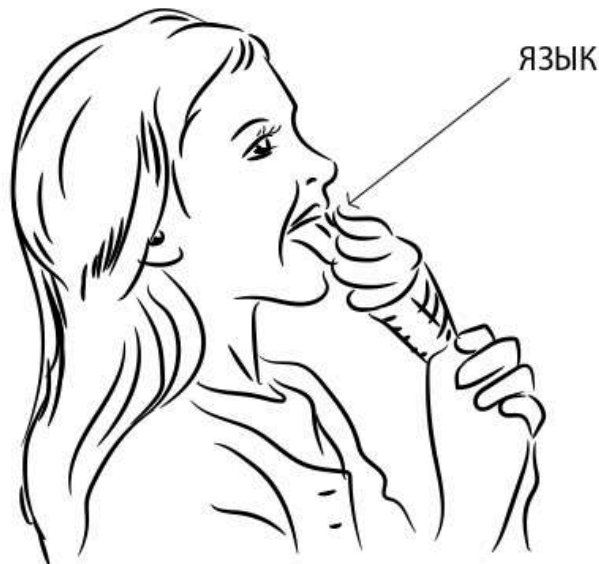
- 4 Дополни правило сохранения здоровья человека одним из предлагаемых вариантов. Запиши номер правильного ответа.

Для сохранения здоровья зубов надо...

- 1) обливаться прохладной водой.
- 2) чистить зубы два раза в день.

Ответ: \_\_\_\_\_

- 5 На рисунке стрелкой отмечен орган вкуса — язык.



Покажи на рисунке стрелкой орган зрения, подпиши название этого органа.

- 6 Прочитай текст.

В течение года на Земле осень, зима, весна и лето сменяют друг друга. Почему так происходит?

Отметь верный вариант ответа.

- 1) Земля вращается вокруг своей оси.
- 2) Земля вращается вокруг Солнца.
- 3) Солнце вращается вокруг Земли.

## Часть 2

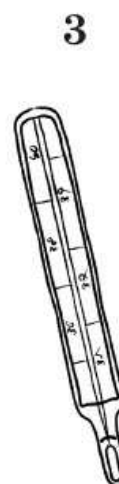
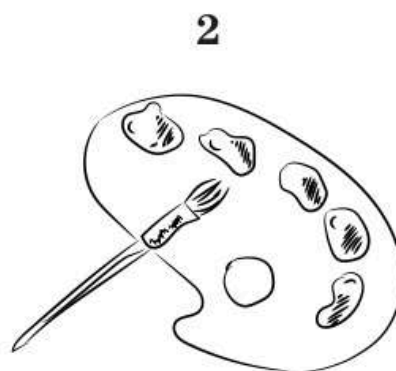
**7** Рассмотрите дорожные знаки.



Какой знак обозначает «Подземный пешеходный переход»?  
Запиши номер правильного ответа.

Ответ: \_\_\_\_\_

**8** На картинках изображены предметы, которыми пользуются люди разных профессий.



Какой предмет нужен для работы парикмахера? Запиши номер правильного ответа.

Ответ: \_\_\_\_\_

**9** 1 сентября в России отмечают День знаний.

Обведи эту дату в календаре (см. с. 58).

## 2022

ЯНВАРЬ							ФЕВРАЛЬ							МАРТ							АПРЕЛЬ						
ПН	ВТ	СР	ЧТ	ПТ	СБ	ВС	ПН	ВТ	СР	ЧТ	ПТ	СБ	ВС	ПН	ВТ	СР	ЧТ	ПТ	СБ	ВС	ПН	ВТ	СР	ЧТ	ПТ	СБ	ВС
				1	2		1	2	3	4	5	6		1	2	3	4	5	6						1	2	3
3	4	5	6	7	8	9	7	8	9	10	11	12	13	7	8	9	10	11	12	13	4	5	6	7	8	9	10
10	11	12	13	14	15	16	14	15	16	17	18	19	20	14	15	16	17	18	19	20	11	12	13	14	15	16	17
17	18	19	20	21	22	23	21	22	23	24	25	26	27	21	22	23	24	25	26	27	18	19	20	21	22	23	24
24	25	26	27	28	29	30	28							28	29	30	31				25	26	27	28	29	30	
31																											
МАЙ							ИЮНЬ							ИЮЛЬ							АВГУСТ						
ПН	ВТ	СР	ЧТ	ПТ	СБ	ВС	ПН	ВТ	СР	ЧТ	ПТ	СБ	ВС	ПН	ВТ	СР	ЧТ	ПТ	СБ	ВС	ПН	ВТ	СР	ЧТ	ПТ	СБ	ВС
					1		1	2	3	4	5					1	2	3	1	2	3	4	5	6	7		
2	3	4	5	6	7	8	6	7	8	9	10	11	12	4	5	6	7	8	9	10	8	9	10	11	12	13	14
9	10	11	12	13	14	15	13	14	15	16	17	18	19	11	12	13	14	15	16	17	15	16	17	18	19	20	21
16	17	18	19	20	21	22	20	21	22	23	24	25	26	18	19	20	21	22	23	24	22	23	24	25	26	27	28
23	24	25	26	27	28	29	27	28	29	30				25	26	27	28	29	30	31	29	30	31				
30	31																										
СЕНТЯБРЬ							ОКТАБРЬ							НОЯБРЬ							ДЕКАБРЬ						
ПН	ВТ	СР	ЧТ	ПТ	СБ	ВС	ПН	ВТ	СР	ЧТ	ПТ	СБ	ВС	ПН	ВТ	СР	ЧТ	ПТ	СБ	ВС	ПН	ВТ	СР	ЧТ	ПТ	СБ	ВС
		1	2	3	4						1	2		1	2	3	4	5	6				1	2	3	4	
5	6	7	8	9	10	11	3	4	5	6	7	8	9	7	8	9	10	11	12	13	5	6	7	8	9	10	11
12	13	14	15	16	17	18	10	11	12	13	14	15	16	14	15	16	17	18	19	20	12	13	14	15	16	17	18
19	20	21	22	23	24	25	17	18	19	20	21	22	23	21	22	23	24	25	26	27	19	20	21	22	23	24	25
26	27	28	29	30			24	25	26	27	28	29	30	28	29	30				26	27	28	29	30	31		
							31																				

Запиши, на какой день недели приходится эта дата в 2022 году.

Ответ: \_\_\_\_\_

**10** Знаешь ли ты свой край?

**10.1** Напиши, чем является населённый пункт, в котором ты живёшь (например: город, село и т. д.).

Ответ: \_\_\_\_\_

**10.2** Напиши название населённого пункта, в котором ты живёшь.

Ответ: \_\_\_\_\_



# СИСТЕМА ОЦЕНИВАНИЯ И ОТВЕТЫ

## Русский язык

### Часть 1

Выполнение задания 1 оценивается по двум критериям от 0 до 7 баллов.

<b>Соблюдение орфографических норм</b>	<b>Баллы</b>
Орфографических ошибок нет	4
Допущены одна-две ошибки	3
Допущены три-четыре ошибки	2
Допущено пять ошибок	1
Допущено более пяти ошибок	0
<b>Соблюдение пунктуационных норм</b>	
Пунктуационных ошибок нет	3
Допущена одна ошибка	2
Допущено две ошибки	1
Допущено более двух ошибок	0
<i>Максимальный балл</i>	<b>7</b>

Выполнение задания 2 оценивается от 0 до 3 баллов.

<b>Критерии оценивания</b>	<b>Баллы</b>
Предложение найдено верно, отмечено верное слово	3
Предложение найдено верно, но допущена одна пунктуационная или одна орфографическая ошибка, отмечено верное слово	2
Предложение найдено верно, но слово отмечено неверно	1
Ответ неправильный	0
<i>Максимальный балл</i>	<b>3</b>